

الجمهورية الجزائرية الديمقراطية الشعبية
وزارة التربية الوطنية
الديوان الوطني للامتحانات والمسابقات
امتحان شهادة بكالوريا التعليم الثانوي دورة جوان 2008
الشعبة : آداب وفلسفة

اختبار في مادة : التاريخ والجغرافيا المدة : 04 ساعات ونصف

على المترشح أن يختار أحد الموضوعين التاليين

الموضوع الأول : (20 نقطة)

التاريخ :

الجزء الأول : (06 نقاط)

- 1- حدد مفهوم المصطلحات الآتية :
 - * - سياسة ملء الفراغ * - الانفراج الدولي
 - * - تقرير المصير
- 2- عرف بالشخصيات الآتية :
 - * - شي غيفارا * - فرحات عباس
 - * - جمال عبد الناصر
- 3- أربط الحدث بتاريخه :

الحدث	تاريخه
مؤتمر باريس ونهاية الحرب الباردة	1947/06/05
إلقاء القنبلة الذرية على هيروشيما	1945/08/06
مشروع مارشال	1948/05/15
مؤتمر الجزائر لحركة عدم الانحياز	1990/11/19
قيام دولة إسرائيل	1973/09/05

- 4- على خريطة العالم المرفقة حدد بؤر التوتر الآتية :
 - * - أزمة برلين * - أزمة كوبا * - أزمة كوريا * - أزمة السويس

الجزء الثاني : (04 نقاط)

إن الصراع بين الشرق والغرب هو في الأساس صراع بين الإيديولوجيتين الرأسمالية والاشتراكية ، وهو أيضا صراع من أجل مصالح استراتيجية لكل من الولايات المتحدة الأمريكية والاتحاد السوفياتي ، وهو مصدر معظم الأزمات .

المطلوب : انطلاقا من الفقرة واعتمادا على ما درست لكتب مقالا تاريخيا تبرز فيه :

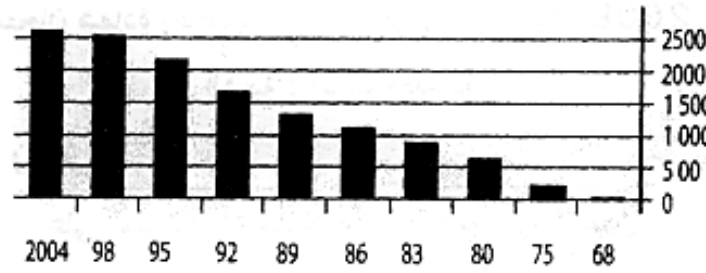
- 1- وسائل الصراع بين المعسكرين .
- 2- حتمية التعايش بينهما .

الجغرافيا :

الجزء الأول : (06 نقاط)

- 1 - حدد مفهوم المصطلحات الآتية :
 - * - الشركات متعددة الجنسيات * - الموارد الطبيعية * - مناطق الاستقطاب * - ميغالوبوليس
- 2- على خريطة الولايات المتحدة الأمريكية المرفقة وقع الأقاليم الصناعية الكبرى .

3- إليك رسماً بيانياً يمثل تطور المديونية في دول الجنوب ما بين 1968 - 2004 ، علق عليه .



الجزء الثاني : (4 نقاط)

- انفردت الولايات المتحدة الأمريكية بقيادة العالم وأصبحت توجه اقتصاده نحو ما يخدم الاقتصاد الأمريكي .
المطلوب : انطلاقاً من الفقرة واعتماداً على ما درست أكتب موضوعاً جغرافياً تبرز فيه :
- 1- عوامل القوة الاقتصادية الأمريكية .
 - 2- مظاهر هذه القوة .

الموضوع الثاني : (20 نقطة)

التاريخ :

الجزء الأول : (06 نقاط).

- 1- حدد مفهوم المصطلحات الآتية :
* التأميم * الكومنولث * الاستعمار المقنع * الستار الحديدي .
- 2- عرف بالشخصيات الآتية :
* هاري ترومان * ميخائيل غورباتشوف * مصطفى بن بولعيد * جوزيف بروز تيتو .
- 3- أكمل جدول الأحداث :

التاريخ	الحدث
	تأميم قناة السويس
09 نوفمبر 1989	
	تأسيس حركة الانتصار للحريات الديمقراطية
04 أبريل 1949	

4- على خريطة التوسع الإسرائيلي بعد حرب 1967 المرفقة . أكمل المفتاح

الجزء الثاني : (04 نقاط)

اعتمدت الحركات التحررية في نضالها أسلوب الكفاح المسلح حيناً والكفاح السياسي حيناً آخر، أو الجمع بينهما، وقد أوجدت الحرب العالمية الثانية بنتائجها المختلفة وضعاً دولياً مناسباً تساعد فيه المد التحرري في القارتين بتضامن وإصرار وشمولية .

المطلوب :

انطلاقاً من الفقرة واعتماداً على ما درست أكتب مقالاً تاريخياً تبرز فيه أساليب الكفاح التحرري في العالم مقدماً دراسة لنموذج من الكفاح .

الجغرافيا:

الجزء الأول: (6 نقاط)

1 - حدد مفهوم المصطلحات الآتية :

* الناتج الداخلي الخام * الديمغرافيا * البورصة * السندات المالية .

2- إليك جدولاً يمثل تطور أسعار البترول ما بين 1970 - 2006 . الوحدة دولار .

السنوات	70	75	80	82	85	90	95	00	02	05	06
السعر	02	12	25	32	27	14	17	20	36	60	70

* - مثل بمنحنى بياني أرقام الجدول ، ثم علق عليه .

1 سم ← 02 سنة

1 سم ← 05 / د .

3- على خريطة العالم المرفقة وقع رموز المفتاح الموالي.

خط التقسيم .

مع 8 : مجموعة الثمانية .

حدن : الدول النامية

الجزء الثاني : (4 نقاط)

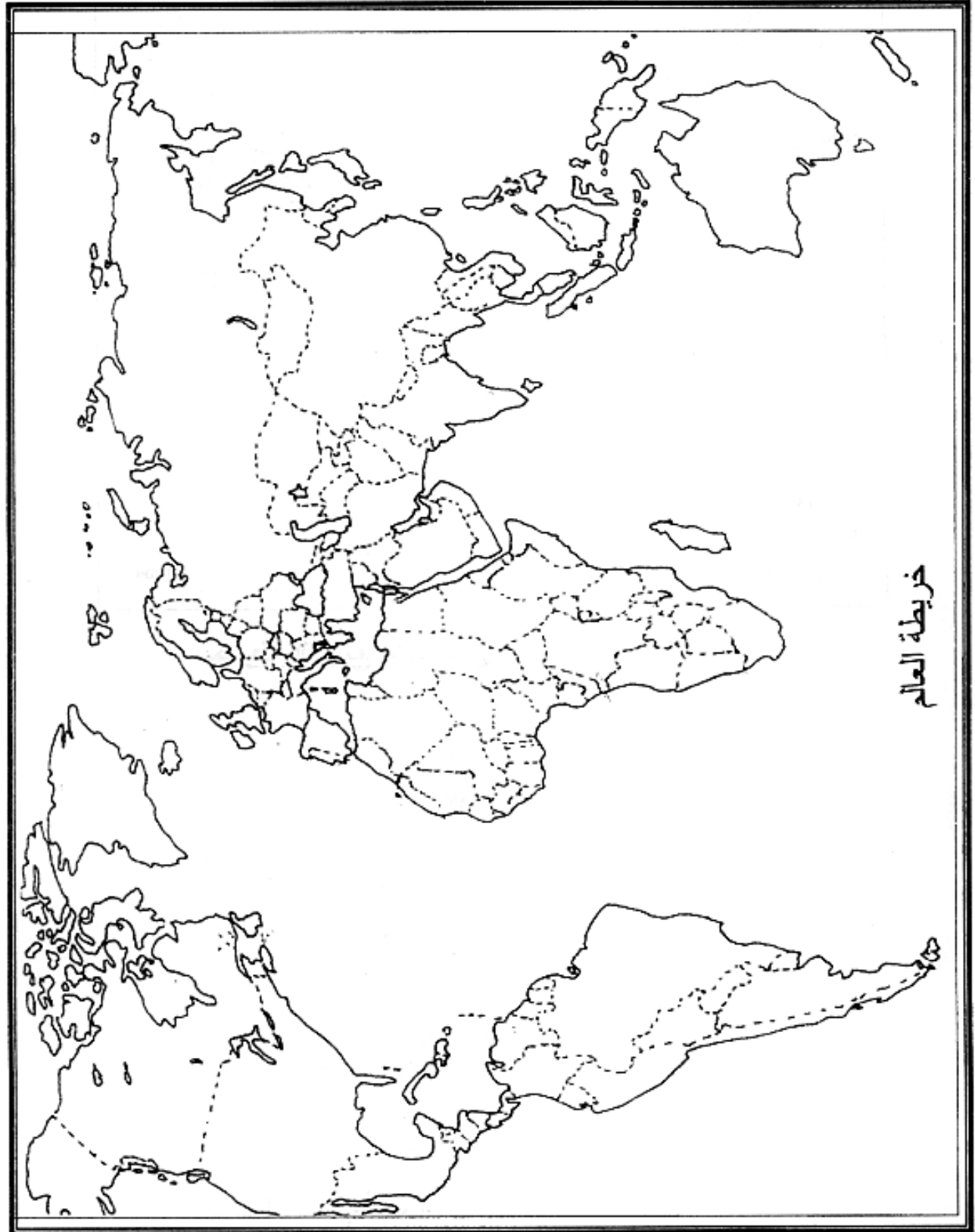
إن التخلف الذي تعرفه دول الجنوب لا يعد قدراً محتوماً، فبإمكانها إحداث تنمية شاملة رغم غياب بعض الإمكانيات وتعدد المشاكل .

المطلوب :

انطلاقاً من الفقرة واعتماداً على ما درست أكتب موضوعاً جغرافياً تبرز فيه :

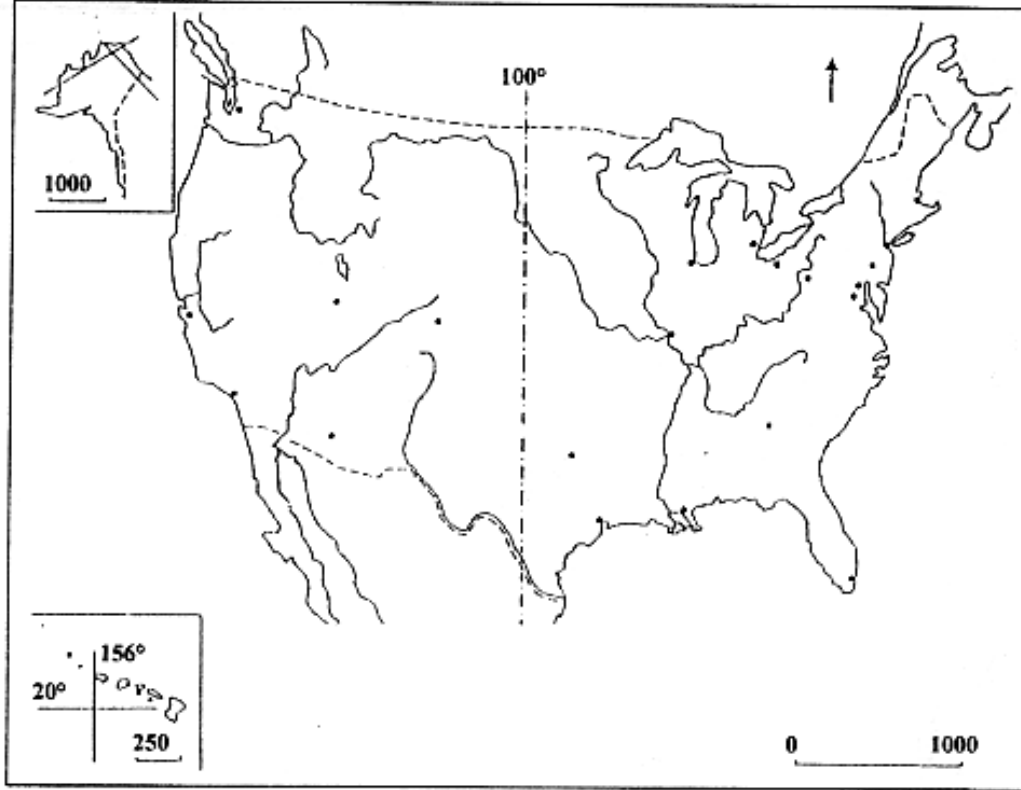
1- أسباب تخلف دول الجنوب .

2- إمكانيات التنمية في دول الجنوب (نيجيريا نموذجاً) .



ينجز العمل المطلوب على الخريطة وتعاد مع أوراق الإجابة

خريطة الولايات المتحدة الأمريكية



خريطة التوسع الإسرائيلي بعد حرب 1967



ينجز العمل المطلوب على الخريطة وتعاد مع أوراق الإجابة