

## I | التناظر المركزي

## OBJECTIFS

## عناصر الدرس

1. التعرف على شكل يقبل مركز تناظر
2. نظير نقطة بالنسبة إلى نقطة
3. نظير قطعة مستقيم بالنسبة إلى نقطة
4. نظير نصف مستقيم بالنسبة إلى نقطة
5. نظير زاوية بالنسبة إلى نقطة
6. مركز تناظر شكل

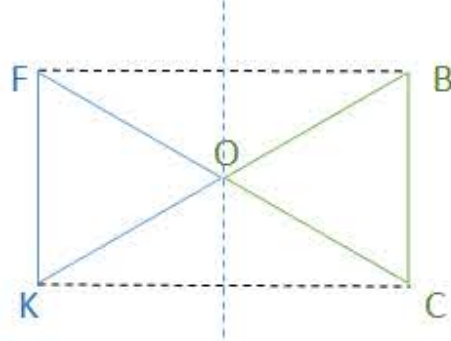
## 1 | التعرف على شكل يقبل مركز تناظر

## DÉFINITION

نقول عن شكلين أنهما متناظران بالنسبة إلى نقطة إذا تطابقا بعد التدوير بنصف دورة حول هذه النقطة

## EXEMPLES

نقول أن المثلث OFK هو نظير المثلث OBC بالنسبة إلى O



## 2 | نظير نقطة بالنسبة إلى نقطة

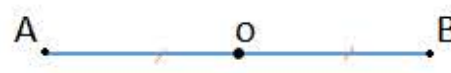
## DÉFINITION

تكون النقطتين A و B متناظرتين بالنسبة إلى النقطة o إذا كانت o منتصف القطعة [AB]

## EXEMPLES

نقول أن :

1. B هي نظيرة A بالنسبة للنقطة o
  2. A هي نظيرة B بالنسبة للنقطة o
  3. A و B متناظرتان بالنسبة للتناظر المركزي الذي مركزه o
- نظيرة النقطة o بالنسبة إلى النقطة o هي نفسها



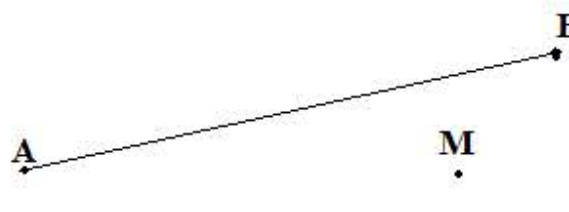
## REMARQUE

A نقطة من المستوي فإن A نظيرة A بالنسبة ل A

## II | نظير قطعة مستقيم بالنسبة إلى نقطة

## DÉFINITION

نظير قطعة مستقيم بالنسبة إلى نقطة O هو قطعة مستقيم تقايسها

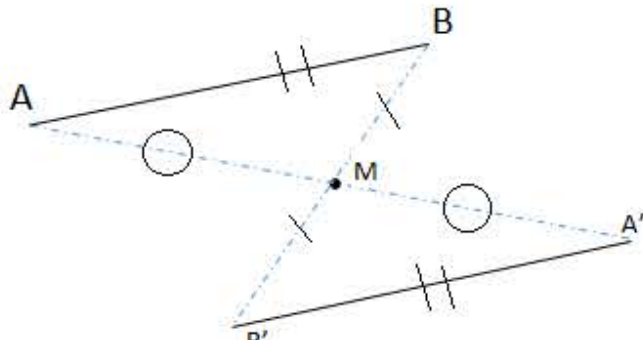


## EXEMPLES

[AB] قطعة مستقيم و M نقطة لا تنتمي إليها كما في الشكل التالي

أنشئ القطعة [A'B'] نظيرة القطعة [AB] بالنسبة إلى النقطة M

1. أنشئ A' و B' نظيرتي A و B على التوالي بالنسبة للنقطة M حيث:  $AB = A'B'$
- نلاحظ أن  $(A'B') \parallel (AB)$  و  $AB = A'B'$



## 1 | نظير نصف مستقيم بالنسبة إلى نقطة

## DÉFINITION

نظير نصف مستقيم [AB] بالنسبة إلى النقطة O هو نصف المستقيم [A'B'] حاملاهما متوازيان و A', B' نظيرتي A, B على الترتيب بالنسبة للنقطة O

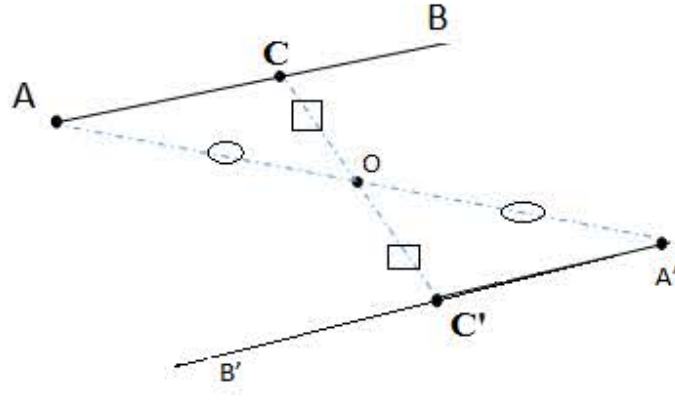


## EXEMPLES

أنشئ نظير لنصف المستقيم [AB] بالنسبة للنقطة O

الحل :

نظير نصف مستقيم [AB] بالنسبة إلى O هو نصف المستقيم [A'B']



## REMARQUE

نظير نصف مستقيم بالنسبة إلى نقطة هو نصف مستقيم يعاكسه

## 2 | نظير زاوية بالنسبة إلى نقطة

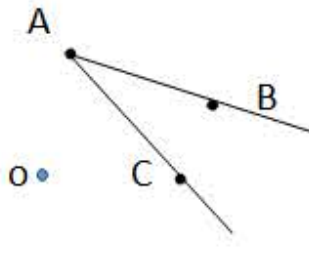
## RÈGLE À SUIVRE

نظير زاوية بالنسبة إلى نقطة هي زاوية تقايسها ورأسيهما متناظران

## EXEMPLES

لدينا الشكل التالي :

- أنشئ الزاوية  $\widehat{C'A'B'}$  نظيرة الزاوية  $\widehat{CAB}$  بالنسبة للنقطة O



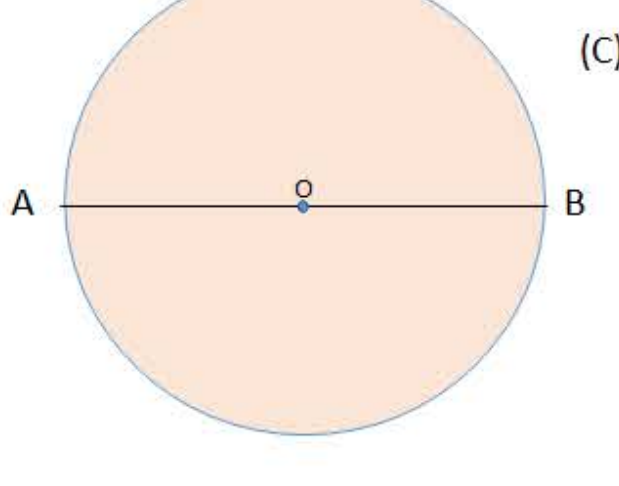
## 3 | مركز تناظر شكل

## DÉFINITION

نسمي نقطة O مركز تناظر شكل كفيي إذا كان نظير هذا الشكل بالنسبة إلى النقطة O هو الشكل نفسه

## EXEMPLES

1. مركز تناظر الدائرة (C) هو النقطة O
2. مركز تناظر [AB] هو O لأنه منتصفها



## PROPRIÉTÉ

1. التناظر المركزي يحفظ الإستقامة
2. التناظر المركزي يحفظ الأطوال
3. التناظر المركزي يحفظ أقياس الزوايا
4. التناظر المركزي يحفظ المساحات